



وزارة التربية

إدارة الشؤون التعليمية

مراقبة الامتحانات وشؤون الطلبة

نموذج الإجابة

المرحلة المتوسطة

الفترة الدراسية الرابعة

المادة : الاجتماعيات

الصف : التاسع

العام الدراسي

2016 / 2015

محافظة مبارك الكبير التعليمية

العام الدراسي : 2015 - 2016 م
عدد الأوراق : 5
الزمن : ساعة و 45 دقيقة

وزارة التربية
للإدارة العامة لمنطقة مبارك الكبير التعليمية
التوجيه الفني للاجتماعيات



اختبار نهاية الفترة الدراسية الرابعة
للفص التاسع



السؤال الأول : موضوعي ويتكون من (أ - ب - ج - د - هـ)
(أ) أمامك خريطة اليابان نفذ المطلوب مما يليها : ص ٩٤

1- عاصمة اليابان طوكيو يمثلها على الخريطة الحرف (ب)

2- ضع الرمز (▲) على موقع المسطح المائي المحيط الهادي

3- ظلل جزيرة هوكايدو .



منطقة مبارك الكبير التعليمية
التوجيه الفني للاجتماعيات

(ب) أكمل العبارات التالية بما يناسب كلا منها :

1- توجد أكبر صخرة في العام في قارة تسمى بـ استراليا ص 85

2- استمر الغزو العراقي الغاشم لدولة الكويت لمدة 7 أشهر ص ١٤٦

3- أول مستوطنة بريطانية أقيمت في استراليا في مدينة سيدني ص 87

(ج) اختر الاجابة الصحيحة التي تناسب العبارات التالية وضع خطا تحتها :

1- انضمت دولة الكويت إلى عضوية الأمم المتحدة في عام : ص 143

(1962 - 1963 - 1964 - 1965)

2- زقع محكمة العدل الدولية في مدينة : ص 128

(لاهاي - جنيف - موسكو - نيويورك)

3- كلمة يونانية تعني شكل من أشكال السلطة يكون بمقتضاه بيد الشعب : ص 104

(الحرية - الديمقراطية - المواطنة - سيادة القانون)



(د) صحح ما تحته خط في العبارات التالية بوضع الاجابة الصحيحة بين الأقواس :

1- ثاني أكبر البلدان في العالم من حيث التعداد السكاني هي الصين (الهند) ص 90

2- تقع المنظمة الإقليمية لحماية البيئة في دولة البحرين (الكويت) ص 146

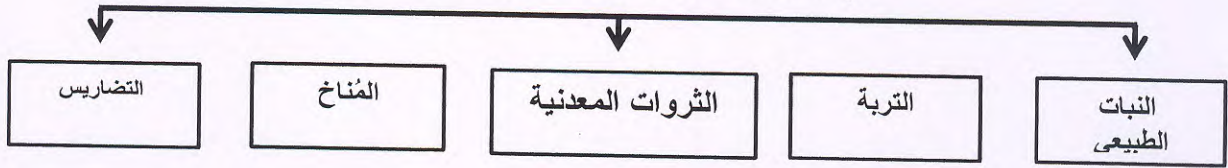
3- ظهرت الشيوعية في روسيا بزعامة هتلر (لينين) ص 122



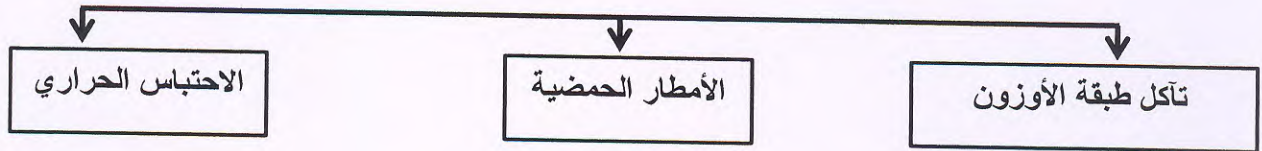
منطقة مبارك الكبير التعليمية
التوجيه المهني للإجتماعيات

(هـ) أكمل المخططات السهمية التالية :

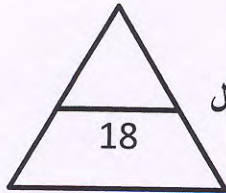
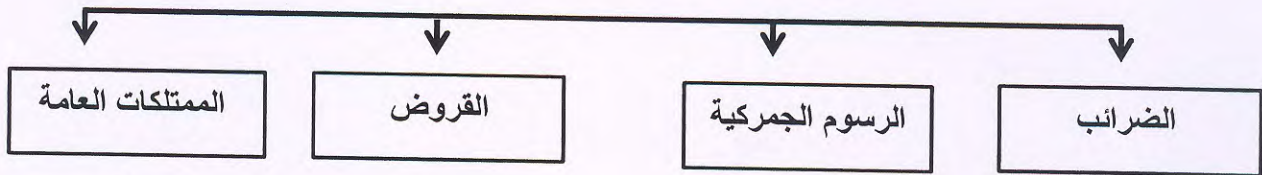
(1) العوامل الطبيعية المؤثرة في توزيع السكان ص 83



(2) الظواهر المناخية الناتجة عن التلوث الهوائي ص 133



(3) موارد المال العام ص 107



الدرجة النهائية للسؤال الأول

(2)

السؤال الثاني : موضوعي ويتكون من (أ - ب)

(أ) رتب الأحداث التاريخية التي أمامك ترتيبا تنازليا من الأقدم إلى الأحدث : 115 - 127

ظهور الديكتاتوريات الحرب العالمية الأولى الحركة الانسانية والاكتشافات الجغرافية



الحركات الإنسانية والكشوفات الجغرافية

الحرب العالمية الأولى

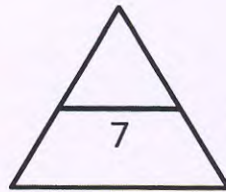
ظهور الديكتاتوريات



(ب) صنف الدول المشتركة في الحرب العالمية الأولى كلا حسب الفريق الذي ينتمي له : ص 124

بريطانيا - اليابان - الولايات المتحدة الأمريكية - ألمانيا

| دول المحور | دول الحفاء |
|------------------------|--|
| • ألمانيا • اليابان | • بريطانيا • الولايات المتحدة الأمريكية |



الدرجة النهائية للسؤال الثاني

(3)

السؤال الثالث: مقالتي ويتكون من (أ - ب)
(أ) عرف المفاهيم التالية :

1- منظمة إقليمية : مجموعة من الدول تقع في منطقة جغرافية معينة من العالم تنشأ بينها علاقات ص 143

2- رأي عام : آراء مجموعة من الأفراد بشأن قضية ما أو موقف ما ص 106

3- ميزان تجاري : قيمة صادرات وواردات الدولة خلال عام ص 84

(ب) أجب في نقطتين فيما يلي :



1- العناصر التي تحدد الرأي العام . ص 106
أ- وجود قضية أو مسألة تكون محل اهتمام الناس

ب- وجود عدد من الأفراد لديهم اهتمام بالقضية أو وجود جمهور للرأي العام

ج- التعبير أو الإفصاح عن الرأي أو وجهة النظر سواء بالكلمة المكتوبة أو المنطوقة

2- أنشطة الصندوق الكويتي للتنمية الاقتصادية . ص 144

أ- تقديم القروض و الضمانات للدول الفقيرة

ب- تقديم المنح على سبيل المعونة الفنية

3- المشكلات السكانية التي تعاني منها الدول النامية . ص 82

أ- مشكلة سوء توزيع السكان

ب- مشكلة النمو السكاني السريع

4- أسباب اندلاع الحرب العالمية الثانية ص 124

أ- قسوة شروط معاهدة فرساي على الدول المهزومة - سياسة هتلر التوسعية في أوروبا

ب- الأزمة الاقتصادية العالمية عام 1929

ب- ظهور الحكومات الديكتاتورية

الدرجة النهائية للسؤال الثالث

11

(4)

السؤال الرابع : مقالى ويتكون من (أ - ب)

(أ) اقرأ الفقرة التالية بدقة ثم أجب عما يلي :

" منذ القدم استخدم الانسان وسائل عديدة لنقل المعلومات والاتصال في أوقات الحرب والسلم فقد وظف النار والدخان والحمام والخيول لتوصيل الرسائل من مكان لآخر ولكن في القرنين الاخيريين شهد تطورا كبيرا في مجال الاتصالات "

1- عرف ما تحته خط : ص 95

عملية تبادل المعلومات بين الأفراد من خلال الرموز و السلوك المنقول بواسطة الرسائل الشفهية



2- اذكر مثالين لوسائل اتصال و نقل معلومات استخدمها الإنسان قديما
أ- النار والدخان

ب- الحمام ج - الخيل



3- شاهد الصورة التالية ثم أجب عن ما يليها
• لعبت دورا هاما في تطوير وسائل الاتصال ومن اختراعاتي الهاتف فمن أنا ؟

السكندر جراهام بيل

(ب) علل لما يأتي (أذكر السبب)

1- تمكن اليابانيون من زراعة الأرز في شمال هوكايدو . ص 93

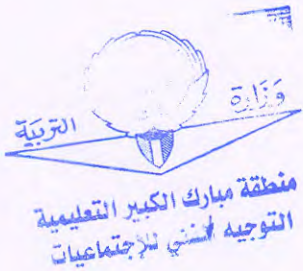
• استخدام وسائل تدفئة للتربة واستنباط سلالات جديدة من البذور

2- فشلت عصبة الأمم في حل المنازعات وحفظ السلام و الأمن بين الدول . ص 126

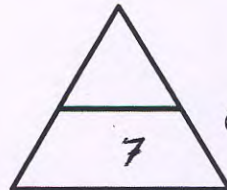
• بسبب قيام الحرب العالمية الثانية التي كانت أشد تدميرا و عنفا

3- اختيار الشيخ صباح الأول حاكما لدولة الكويت . ص 104

• بسبب حاجة السكان إلى وجود سلطة تدير شؤونهم



(5)



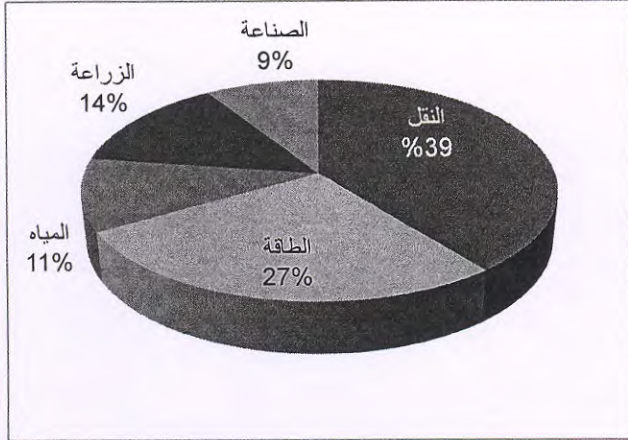
الدرجة النهائية للسؤال الرابع

السؤال الخامس مقالي ويتكون من (أ - ب)
أ- اقرأ الفقرة التالية بدقة ثم أجب عن الأسئلة التي تليها :

" لعبت دولة الكويت دورا كبيرا منذ استقلالها في المساهمة في حل المشكلات التي تواجه بعض دول العالم وذلك نتيجة للمركز المالي الذي تحتله دولة الكويت بعدما أنعم الله عليها بالثروة الناتجة عن عائدات النفط ومن هنا جاءت فكرة انشاء الصندوق الكويتي للتنمية الاقتصادية والذي اتخذ شعار (ساعد الناس لكي يساعدوا أنفسهم) . "

1- عرف ما تحته خط : مؤسسة اقتصادية أنشأتها دولة الكويت في ديسمبر عام 1961 لتوزيع المعونات المالية والفنية للدول النامية ^{١٤٤١}

2- ما هو شعار الصندوق الكويتي للتنمية الاقتصادية ؟
ساعد الناس لكي يساعدوا أنفسهم ^{١٤٤٠}



3- رتب القطاعات الثلاثة الأولى التي يمولها الصندوق الكويتي للتنمية الاقتصادية ترتيبا تنازليا بعد مشاهدة الرسم البياني المقابل . ^{١٤٤٠}

النقل الطاقة الزراعة

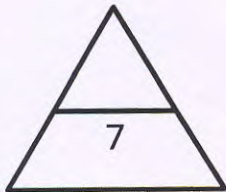


ب (شاهد الصورة التي أمامك ثم أجب عن ما يليها : ص 108



1- ضع عنوانا مناسباً للصورة ؟ التعدي على الممتلكات العامة / اتلاف الممتلكات العامة / تدمير المرافق العامة
الاعتداء على المال العام ^{١٠٨}

2- ما هو دور الدولة في مواجهة هذه المشكلة ؟ ^{١٠٧}
القيام بسن التشريعات والقوانين للمحافظة عليها



الدرجة النهائية للسؤال الخامس

(6)